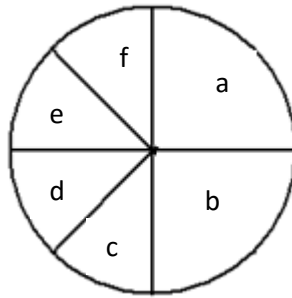


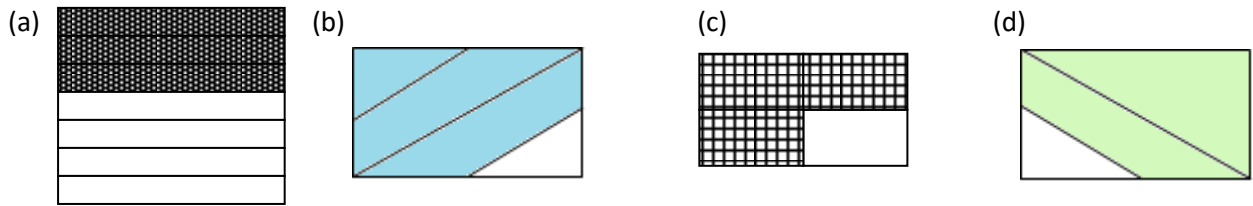
# Triail Dhiagnóiseach – samplach

1. Freagair na ceistanna seo a leanas:

- (a) Cén codán den chiorcal atá marcáilte le 'f' ?  
 (b) Cén codán den chiorcal atá marcáilte le 'b'?



2. Cé acu de na dronuilleoga seo a bhfuil  $\frac{3}{4}$  di scáilithe isteach? An mó é seo ná dronuilleog amháin?



3. D'fhéadfadh an chuid scáilithe den léaráid seo seasamh dos na huimhreacha:

A: 5    B:  $2\frac{1}{2}$     C:  $\frac{5}{8}$     D:  $1\frac{1}{4}$



Sainaithin an t-aonad i ngach cás A,B,C and D

4. **Cé acu is mó?** Ag ligint ort nach bhfuil ainmneoirí coiteanna ar eolas agat roghnaigh an codán is mó i ngach cás agus mínigh do fhreagra.

a)  $\frac{3}{7}$  or  $\frac{5}{7}$

b)  $\frac{2}{3}$  or  $\frac{2}{5}$

c)  $\frac{5}{9}$  or  $\frac{3}{7}$


d)  $\frac{3}{5}$  or  $\frac{2}{3}$

5. Scáilínigh  $\frac{3}{4}$  de na dronuilleoga seo a leanas

An ionann  $\frac{3}{4}$  i gconaí? \_\_\_\_\_

Mínigh do fhreagra: \_\_\_\_\_

6. Cad a thugann níos mó pizza duit?  $\frac{2}{3}$  de Pizza 1 nó  $\frac{3}{4}$  de Pizza 2? Mínigh do fhreagra.



Pizza 1

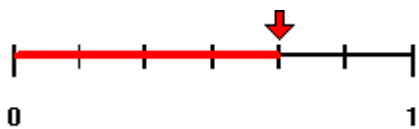


Pizza 2

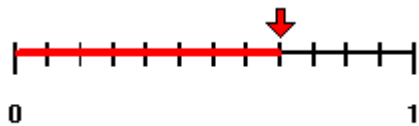
7. Tá na trí uimhirlíne seo a leanas ar chomhfad.



Taispeánann an uimhirlíne seo  $\frac{2}{3}$  de scáilithe



Cén codán den uimhirlíne seo atá scáilithe?



Cén codán den uimhirlíne seo atá scáilithe?

8. Céard a thugann tú faoi ndeara mar gheall ar na codáin i gceist 7?